

COMPETITIVE EXAMINATION – 2017

DATE and TIME	POST	SUBJECT
30-07-2017 2.30 p.m. to 4.30 p.m.	Agricultural Officer	GENERAL KNOWLEDGE PAPER

MAXIMUM MARKS	TOTAL DURATION	MAXIMUM TIME FOR ANSWERING
100	120 Minutes	90 Minutes

MENTION YOUR REGISTER NUMBER					QUESTION BOOKLET DETAILS VERSION CODE / SERIAL NUMBER	
					XXXXXX	

DO's :

1. Check whether the Register No. has been entered and shaded in the respective circles on the OMR Answer Sheet.
2. This question booklet is issued to you by the invigilator after the **2nd bell i.e., after 2.50 p.m.**
3. The Version Code / Serial Number of this question booklet should be entered on the OMR Answer Sheet and the respective circles should also be shaded completely.
4. Compulsorily affix the complete signature at the bottom portion of the OMR Answer Sheet in the space provided.

DON'Ts :

1. **The timing and marks printed on the OMR Answer Sheet should not be damaged / mutilated / spoiled.**
2. The **3rd Bell rings at 3.00 p.m.**, till then;
 - Do not remove the seal present on the right hand side of this question booklet.
 - Do not look inside this question booklet.
 - Do not start answering on the OMR Answer Sheet.

IMPORTANT INSTRUCTIONS TO CANDIDATES

1. This question booklet contains 100 (items) questions and each question will have one statement and four answers. (Four different options / responses.)
2. After the 3rd Bell is rung at **3.00 p.m.**, remove the paper seal / polythene bag of this question booklet and check that this booklet does not have any unprinted or torn or missing pages or items etc., if so, get it replaced by a complete test booklet. Read each item and start answering on the OMR Answer Sheet.
3. During the subsequent 90 minutes :
 - Read each question (item) carefully.
 - Choose one correct answer from out of the four available responses (options / choices) given under each question / item. In case you feel that there is more than one correct response, mark the response which you consider the best. In any case, choose **only one response** for each item.
 - Completely **darken / shade** the relevant circle with a **blue or black ink ballpoint pen against the question number on the OMR answer sheet.**

Correct Method of shading the circle on the OMR Answer Sheet is : 

4. Please note that even a minute unintended ink dot on the OMR Answer Sheet will also be recognized and recorded by the scanner. Therefore, avoid multiple markings of any kind on the OMR Answer Sheet.
5. Use the space provided on each page of the question booklet for Rough Work. Do not use the OMR Answer Sheet for the same.
6. After the **last bell is rung at 4.30 p.m.**, stop marking on the OMR Answer Sheet and affix your **left hand thumb impression** on the OMR Answer Sheet as per the instructions.
7. Hand over the **OMR Answer Sheet** to the room invigilator as it is.
8. After separating the top sheet (KEA copy), the invigilator will return the bottom sheet replica (Candidate's copy) to you to carry home for self evaluation.
9. Preserve the replica of the OMR Answer Sheet for a minimum period of ONE year.
10. In case of any discrepancy in the English and Kannada versions, the English version will be taken as final.

1. Which is the Highest Civilian Award in India ?
(A) Bharat Ratna (B) Padma Vibhushan
(C) Padma Bhushan (D) Padma Shri

Question Id : 1

2. The first American President to visit India was
(A) Herold Nixon
(B) Dwight David Eisenhower
(C) John F. Kennedy (D) Bill Clinton

Question Id : 2

3. In which State of India a woman became the Chief Minister for the first time ?
(A) Odisha (B) Punjab
(C) Uttar Pradesh (D) Tamil Nadu

Question Id : 3

4. Who was famous as Loknayaka ?
(A) Bal Gangadhar Tilak
(B) Acharya Narendra Dev
(C) Jayaprakash Narayan
(D) Deendayal Upadhyaya

Question Id : 4

5. When was Government of India first adopted the Indian Rupees sign ?
(A) July 15, 2010 (B) July 16, 2010
(C) July 17, 2010 (D) July 18, 2010

Question Id : 5

6. Who was ranked with 'Field Marshall' for his extra-ordinary contribution to the Indian Air Force ?
(A) Sam Manekshaw (B) K.M. Cariappa
(C) K. Sunderjee (D) Arjan Singh Avlakh

Question Id : 6

7. The nuclear test conducted by India in 1974 was coded with
(A) Buddha is Smiling (B) Shakti I
(C) Shakti II (D) Operation Blue Star

Question Id : 7

1. ಭಾರತದ ಅತ್ಯುನ್ನತ ನಾಗರಿಕ ಪ್ರಶಸ್ತಿ ಯಾವುದು ?
(A) ಭಾರತ ರತ್ನ (B) ಪದ್ಮ ವಿಭೂಷಣ
(C) ಪದ್ಮ ಭೂಷಣ (D) ಪದ್ಮ ಶ್ರೀ

Question Id : 1

2. ಭಾರತಕ್ಕೆ ಭೇಟಿ ನೀಡಿದ ಪ್ರಥಮ ಅಮೇರಿಕಾ ದೇಶದ ಅಧ್ಯಕ್ಷರು
(A) ಹೆರಾಲ್ಡ್ ನಿಕಸನ್
(B) ಡ್ವೈಟ್ ಡೇವಿಡ್ ಐಶನ್ ಹೋವರ್
(C) ಜಾನ್ ಎಫ್. ಕೆನಡಿ (D) ಬಿಲ್ ಕ್ಲಿಂಟನ್

Question Id : 2

3. ಭಾರತದ ಯಾವ ರಾಜ್ಯದಲ್ಲಿ ಮಹಿಳೆಯೊಬ್ಬರು ಪ್ರಪ್ರಥಮ ಭಾರಿಗೆ ಮುಖ್ಯಮಂತ್ರಿಯಾದರು ?
(A) ಒಡಿಸ್ಸಾ (B) ಪಂಜಾಬ್
(C) ಉತ್ತರ ಪ್ರದೇಶ (D) ತಮಿಳುನಾಡು

Question Id : 3

4. ಲೋಕನಾಯಕ ಎಂಬುದಾಗಿ ಪ್ರಸಿದ್ಧರಾಗಿದ್ದವರು ಯಾರು ?
(A) ಬಾಲ ಗಂಗಾಧರ್ ತಿಲಕ್
(B) ಆಚಾರ್ಯ ನರೇಂದ್ರ ದೇವ್
(C) ಜಯಪ್ರಕಾಶ್ ನಾರಾಯಣ್
(D) ದೀನ್‌ದಯಾಳ್ ಉಪಾಧ್ಯಾಯ

Question Id : 4

5. ಭಾರತ ಸರ್ಕಾರವು ಯಾವಾಗ ಪ್ರಥಮವಾಗಿ ಭಾರತದ ರೂಪಾಯಿ ಚಿಹ್ನೆಯನ್ನು ಅಳವಡಿಸಿಕೊಂಡಿತು ?
(A) ಜುಲೈ 15, 2010 (B) ಜುಲೈ 16, 2010
(C) ಜುಲೈ 17, 2010 (D) ಜುಲೈ 18, 2010

Question Id : 5

6. ಭಾರತೀಯ ವಾಯು ಪಡೆಗೆ ಅವರು ನೀಡಿದ ವಿಶೇಷ ಕೊಡುಗೆಯನ್ನು ಪರಿಗಣಿಸಿ ಯಾರಿಗೆ 'ಫೀಲ್ಡ್ ಮಾರ್ಷಲ್' ಪದವಿಯೊಂದಿಗೆ ಗೌರವಿಸಲಾಗಿದೆ ?
(A) ಸ್ಯಾಮ್ ಮಣೆಕ್ ಷಾ (B) ಕೆ.ಎಂ. ಕಾರಿಯಪ್ಪ
(C) ಕೆ. ಸುಂದರ್ ಜೀ (D) ಅರ್ಜುನ್ ಸಿಂಗ್ ಔಲಾಕ್

Question Id : 6

7. 1974 ರಲ್ಲಿ ಭಾರತ ಕೈಗೊಂಡ ಅಣುಪರೀಕ್ಷೆಯನ್ನು ಹೀಗೆ ಹೆಸರಿಸಲಾಯಿತು
(A) ಬುದ್ಧನ ನಸುನಗು (B) ಶಕ್ತಿ - I
(C) ಶಕ್ತಿ - II
(D) ನೀಲಿ ನಕ್ಷತ್ರ ಕಾರ್ಯಾಚರಣೆ

Question Id : 7

8. Where is Central Institute of Indian Languages located ?
 (A) Jaipur (Rajasthan)
 (B) Pune (Maharashtra)
 (C) Mysore (Karnataka)
 (D) Lucknow (Uttar Pradesh)

Question Id : 8

9. Who among the following political leaders is not belongs to Dalit Community ?
 (A) Mayawati (B) Ramvilas Paswan
 (C) Mallikarjuna Kharge
 (D) Nitish Kumar

Question Id : 9

10. The Chief Justice of the High Court is appointed by
 (A) The President
 (B) The Governor of the State
 (C) The Chief Justice of India
 (D) The President in consultation with the Chief Justice of India and Governor of the State

Question Id : 10

11. The Constitution of India vests the residuary powers in
 (A) The Union Government
 (B) The States
 (C) The Union and the State Governments
 (D) Local Governments

Question Id : 11

12. Which Constitutional Amendment provides special provisions to Hyderabad-Karnataka region ?
 (A) 97th Amendment (B) 98th Amendment
 (C) 99th Amendment (D) 100th Amendment

Question Id : 12

8. ಭಾರತೀಯ ಭಾಷೆಗಳ ಕೇಂದ್ರೀಯ ಸಂಸ್ಥೆಯು ಎಲ್ಲಿದೆ ?
 (A) ಜೈಪುರ (ರಾಜಸ್ಥಾನ) (B) ಪುಣೆ (ಮಹಾರಾಷ್ಟ್ರ)
 (C) ಮೈಸೂರು (ಕರ್ನಾಟಕ) (D) ಲಕ್ನೋ (ಉತ್ತರಪ್ರದೇಶ)

Question Id : 8

9. ಈ ಕೆಳಕಂಡ ರಾಜಕೀಯ ನಾಯಕರಲ್ಲಿ ದಲಿತ ಸಮುದಾಯಕ್ಕೆ ಸೇರದವರು ಯಾರು ?
 (A) ಮಾಯಾವತಿ (B) ರಾಮ್ ವಿಲಾಸ್ ಪಾಸ್ವಾನ್
 (C) ಮಲ್ಲಿಕಾರ್ಜುನ ಖರ್ಗೆ (D) ನಿತಿಶ್ ಕುಮಾರ್

Question Id : 9

10. ರಾಜ್ಯ ಹೈಕೋರ್ಟಿನ ಮುಖ್ಯ ನ್ಯಾಯಾಧೀಶರು ನೇಮಿಸಲ್ಪಡುವುದು ಇವರಿಂದ
 (A) ರಾಷ್ಟ್ರಪತಿ (B) ರಾಜ್ಯದ ರಾಜ್ಯಪಾಲರು
 (C) ಭಾರತದ ಮುಖ್ಯ ನ್ಯಾಯಮೂರ್ತಿಗಳು
 (D) ರಾಷ್ಟ್ರಪತಿಯವರು, ಭಾರತದ ಮುಖ್ಯ ನ್ಯಾಯಮೂರ್ತಿಯವರು ಮತ್ತು ರಾಜ್ಯದ ರಾಜ್ಯಪಾಲರೊಂದಿಗೆ ಸಮಾಲೋಚನೆ ನಡೆಸಿ ನೇಮಿಸುತ್ತಾರೆ

Question Id : 10

11. ಭಾರತ ಸಂವಿಧಾನವು ಶೇಷಾಧಿಕಾರವನ್ನು ನೀಡಿರುವುದು
 (A) ಕೇಂದ್ರ ಸರ್ಕಾರಕ್ಕೆ (B) ರಾಜ್ಯ ಸರ್ಕಾರಗಳಿಗೆ
 (C) ಕೇಂದ್ರ ಮತ್ತು ರಾಜ್ಯ ಸರ್ಕಾರಗಳಿಗೆ
 (D) ಸ್ಥಳೀಯ ಸರ್ಕಾರಗಳಿಗೆ

Question Id : 11

12. ಯಾವ ಸಂವಿಧಾನ ತಿದ್ದುಪಡಿಯು ಹೈದರಾಬಾದ್-ಕರ್ನಾಟಕ ಪ್ರದೇಶಕ್ಕೆ ವಿಶೇಷ ಸ್ಥಾನಮಾನ ಸೌಲಭ್ಯಗಳನ್ನು ನೀಡಿದೆ ?
 (A) 97 ನೇ ತಿದ್ದುಪಡಿ (B) 98 ನೇ ತಿದ್ದುಪಡಿ
 (C) 99 ನೇ ತಿದ್ದುಪಡಿ (D) 100 ನೇ ತಿದ್ದುಪಡಿ

Question Id : 12

13. Who is the present Chief Election Commissioner of India ?
 (A) Harishankar Brahma
 (B) Nazim Zaidi
 (C) Achal Kumar Joti (D) S.Y. Quraishi

Question Id : 13

14. The Sarkaria Commission was appointed
 (A) to find a solution to the Kashmir crisis
 (B) to examine Centre-State relations
 (C) to resolve dispute over sharing the water
 (D) to examine the working of public sector undertakings

Question Id : 14

15. A new state can be created in India
 (A) by a simple majority of Parliament.
 (B) by a simple majority of Parliament and approval of majority of states.
 (C) by a two-thirds majority in Parliament.
 (D) by a two-thirds majority in each house of Parliament and approval by a majority of states.

Question Id : 15

16. Entomology is the science that studies
 (A) Behaviour of human beings
 (B) Insects
 (C) The origin and history of scientific terms
 (D) The formation of rocks

Question Id : 16

17. Joule is the unit of
 (A) Temperature (B) Pressure
 (C) Energy (D) Heat

Question Id : 17

18. Satellite launching station is located at
 (A) Sriharikota (Andhra Pradesh)
 (B) Solapur (Maharashtra)
 (C) Salem (Tamil Nadu)
 (D) Warangal (Andhra Pradesh)

Question Id : 18

13. ಪ್ರಸ್ತುತ ಭಾರತದ ಪ್ರಸ್ತುತ ಮುಖ್ಯ ಚುನಾವಣಾ ಆಯುಕ್ತರು ಯಾರು ?
 (A) ಹರಿಶಂಕರ್ ಬ್ರಹ್ಮ (B) ನಜೀಮ್ ಜೈದಿ
 (C) ಅಚಲ್ ಕುಮಾರ್ ಜೋಷಿ (D) ಎಸ್.ವೈ. ಮಿರೇಷಿ

Question Id : 13

14. ಸರ್ಕಾರಿಯಾ ಆಯೋಗ ನೇಮಕವಾಗಿದ್ದು
 (A) ಕಾಶ್ಮೀರ ಸಮಸ್ಯೆಗೆ ಪರಿಹಾರ ಕಂಡುಹಿಡಿಯಲು
 (B) ಕೇಂದ್ರ - ರಾಜ್ಯ ಸಂಬಂಧಗಳನ್ನು ಪರಿಶೀಲಿಸಲು
 (C) ನದಿ ನೀರಿನ ಹಂಚಿಕೆಯ ವಿವಾದವನ್ನು ಬಗೆಹರಿಸಲು
 (D) ಸಾರ್ವಜನಿಕ ಕ್ಷೇತ್ರದ ಸಂಸ್ಥೆಗಳ ಕಾರ್ಯವನ್ನು ಪರಿಶೀಲಿಸಲು

Question Id : 14

15. ಭಾರತದಲ್ಲಿ ಒಂದು ಹೊಸ ರಾಜ್ಯವನ್ನು ಹೀಗೆ ಸೃಷ್ಟಿಸಬಹುದು
 (A) ಸಂಸತ್ತಿನ ಸಾಮಾನ್ಯ ಬಹುಮತದ ಮೂಲಕ
 (B) ಸಂಸತ್ತಿನ ಸಾಮಾನ್ಯ ಬಹುಮತ ಮತ್ತು ಗರಿಷ್ಠ ರಾಜ್ಯಗಳ ಒಪ್ಪಿಗೆಯ ಮೇರೆಗೆ
 (C) ಸಂಸತ್ತಿನ ಮೂರನೇ ಎರಡರಷ್ಟು ಬಹುಮತದೊಂದಿಗೆ
 (D) ಸಂಸತ್ತಿನ ಉಭಯ ಸದನಗಳ ಮೂರನೇ ಎರಡರಷ್ಟು ಬಹುಮತ ಹಾಗೂ ಗರಿಷ್ಠ ರಾಜ್ಯಗಳ ಒಪ್ಪಿಗೆಯೊಂದಿಗೆ

Question Id : 15

16. ಎಂಟೊಮಾಲಜಿ ವಿಜ್ಞಾನವು ಕೆಳಗಿನ ಯಾವುದನ್ನು ಅಭ್ಯಸಿಸುತ್ತದೆ ?
 (A) ಮನುಷ್ಯನ ವರ್ತನೆ (B) ಕೀಟಗಳು
 (C) ವೈಜ್ಞಾನಿಕ ಪದಗಳ ಮೂಲ ಹಾಗೂ ಇತಿಹಾಸ
 (D) ಶಿಲೆಯ ರೂಪುಗೊಳ್ಳುವಿಕೆ

Question Id : 16

17. 'Joule' ಎಂಬುದು ಇದರ ಯೂನಿಟ್ -
 (A) ಉಷ್ಣತೆ (B) ಒತ್ತಡ
 (C) ಶಕ್ತಿ (ಎನರ್ಜಿ) (D) ತಾಪ (ಹೀಟ್)

Question Id : 17

18. ಉಪಗ್ರಹ ಉಡಾವಣಾ ಕೇಂದ್ರ ಇಲ್ಲಿದೆ -
 (A) ಶ್ರೀಹರಿಕೋಟ (ಆಂಧ್ರಪ್ರದೇಶ)
 (B) ಸೋಲಾಪುರ (ಮಹಾರಾಷ್ಟ್ರ)
 (C) ಸೇಲಂ (ತಮಿಳುನಾಡು)
 (D) ವಾರಂಗಲ್ (ಆಂಧ್ರಪ್ರದೇಶ)

Question Id : 18

19. The chief constituent of Gobar Gas is
 (A) Ethane (B) Methane
 (C) Hydrogen (D) Carbon dioxide

Question Id : 19

20. India has largest deposits of _____ in the world.
 (A) Gold (B) Copper
 (C) Uranium (D) Mica

Question Id : 20

21. The chief purpose of crop rotation is to check the loss of top soil
 (A) by water erosion (B) by wind erosion
 (C) by weathering
 (D) of its mineral content

Question Id : 21

22. The reaction which converts sugar solution into alcohol is an example of
 (A) Saponification (B) Hydrogenation
 (C) Fermentation (D) Hydrolysis

Question Id : 22

23. The Scottish bacteriologist who discovered Penicillin was
 (A) Alexander Fleming (B) Albert Einstein
 (C) Archimedes (D) Aryabhatta

Question Id : 23

24. One yard is
 (A) 0.71 metre (B) 0.91 metre
 (C) 0.81 metre (D) 0.61 metre

Question Id : 24

25. Altimeter is the device that measures
 (A) the Altitudes of Aircraft
 (B) the Thermal Radiations
 (C) the Intensity of Sound
 (D) the Power and Speed of Wind

Question Id : 25

19. ಗೋಬರ್ ಗ್ಯಾಸ್‌ನ ಪ್ರಮುಖ ಧಾತು -
 (A) ಈಥೇನ್ (B) ಮೀಥೇನ್
 (C) ಜಲಜನಕ (D) ಇಂಗಾಲ ಡೈ ಆಕ್ಸೈಡ್

Question Id : 19

20. ಜಗತ್ತಿನಲ್ಲೇ ಹೆಚ್ಚಿನ ಪ್ರಮಾಣದಲ್ಲಿ _____ ದ ಶೇಖರಣೆ ಭಾರತದಲ್ಲಿದೆ.
 (A) ಚಿನ್ನ (B) ತಾಮ್ರ
 (C) ಯುರೇನಿಯಂ (D) ಮೈಕಾ

Question Id : 20

21. ಬೆಳೆ ಬದಲಾವಣೆಯ ಪ್ರಮುಖ ಉದ್ದೇಶ ಮಣ್ಣಿನ ಮೇಲ್ಪದರದ ನಷ್ಟವನ್ನು ತಪ್ಪಿಸುವುದು -
 (A) ನೀರಿನಿಂದಾಗುವ ಎರೋಷನ್
 (B) ಗಾಳಿಯಿಂದಾಗುವ ಎರೋಷನ್
 (C) ವೆದರಿಂಗ್ ನಿಂದಾಗುವ ನಷ್ಟ
 (D) ಮಣ್ಣಿನ ಖನಿಜಗಳ ನಷ್ಟ

Question Id : 21

22. ಸಕ್ಕರೆ ದ್ರಾವಣವನ್ನು ಆಲ್ಕೋಹಾಲ್ ಆಗಿ ಪರಿವರ್ತಿಸುವ ರಾಸಾಯನಿಕ ಕ್ರಿಯೆ -
 (A) ಸಪೋನಿಫಿಕೇಶನ್ (B) ಹೈಡ್ರೋಜನೇಶನ್
 (C) ಫರ್ಮೆಂಟೇಶನ್ (D) ಹೈಡ್ರಾಲಿಸಿಸ್

Question Id : 22

23. ಪೆನಿಸಿಲಿನ್ ಕಂಡುಹಿಡಿದ ಸ್ಕಾಟಿಶ್ ಬ್ಯಾಕ್ಟೀರಿಯಾಲಜಿಸ್ಟ್ -
 (A) ಅಲೆಕ್ಸಾಂಡರ್ ಫ್ಲೆಮಿಂಗ್ (B) ಆಲ್ಬರ್ಟ್ ಐನ್‌ಸ್ಟೈನ್
 (C) ಆರ್ಕಿಮಿಡಿಸ್ (D) ಆರ್ಯಭಟ

Question Id : 23

24. ಒಂದು ಗಜ ಎಂದರೆ -
 (A) 0.71 ಮೀಟರ್ (B) 0.91 ಮೀಟರ್
 (C) 0.81 ಮೀಟರ್ (D) 0.61 ಮೀಟರ್

Question Id : 24

25. 'Altimeter' ಕೆಳಗಿನ ಯಾವುದನ್ನು ಅಳೆಯುವ ಮಾಪನ -
 (A) ಆಲ್ಟಿಟ್ಯೂಡ್ ಆಫ್ ಏರ್ ಕ್ರಾಫ್ಟ್
 (B) ಥರ್ಮಲ್ ರೇಡಿಯೇಶನ್‌ಗಳು
 (C) ಶಬ್ದದ ತೀವ್ರತೆ (D) ಗಾಳಿಯ ಶಕ್ತಿ ಹಾಗೂ ವೇಗ

Question Id : 25

26. The latest discovered state of matter is
 (A) Solid
 (B) Bose - Einstein condensate
 (C) Plasma (D) Liquid
 Question Id : 26
27. Which of the planets is called morning star or evening star ?
 (A) Mercury (B) Mars
 (C) Venus (D) Saturn
 Question Id : 27
28. Which of the following is called Information Gateway ?
 (A) E-mail (B) Pager
 (C) Cellular phone (D) Internet
 Question Id : 28
29. Artificial silk is also called
 (A) Rayon (B) Dacron
 (C) Fibre Glass (D) Nylon
 Question Id : 29
30. Which of the following has three pairs of legs ?
 (A) Spider (B) Scorpion
 (C) Bug (D) Mite
 Question Id : 30
31. The Harappan site Dholavira is situated in the state of
 (A) Gujarat (B) Haryana
 (C) Madhya Pradesh (D) Rajasthan
 Question Id : 31
32. The Brahmi script was deciphered by
 (A) Charles Wilkins (B) James Prinsep
 (C) R.G. Bhandarkar (D) D.C. Sircar
 Question Id : 32
33. The list of Sixteen Mahajanapadas is contained in the text
 (A) Manu Smriti (B) Narada Smriti
 (C) Anguttara Nikaya in Sutta Pitaka
 (D) None of these
 Question Id : 33

26. ಹೊಸದಾಗಿ ಆವಿಷ್ಕರಿಸಿದ 'State of matter' -
 (A) ಘನವಸ್ತು
 (B) ಬೋಸ್ - ಐನ್‌ಸ್ಟೀನ್ ಕಂಡೆನ್ಸೇಟ್
 (C) ಪ್ಲಾಸ್ಮಾ (D) ದ್ರವ
 Question Id : 26
27. ಮಾರ್ನಿಂಗ್ ಸ್ಟಾರ್ ಅಥವಾ ಇವೆನಿಂಗ್ ಸ್ಟಾರ್ ಎಂದು ಕರೆಯಲ್ಪಡುವ ಗ್ರಹ ಯಾವುದು ?
 (A) ಮರ್ಕ್ಯೂರಿ - ಬುಧ (B) ಮಾರ್ಸ್ - ಮಂಗಳ
 (C) ವೀನಸ್ - ಶುಕ್ರ (D) ಸ್ಯಾಟರ್ನ್ - ಶನಿ
 Question Id : 27
28. ಇನ್‌ಫರ್‌ಮೇಶನ್ ಗೇಟ್‌ವೇ ಎಂದು ಕೆಲಗಿನ ಯಾವುದನ್ನು ಕರೆಯುತ್ತಾರೆ -
 (A) ಇ-ಮೇಲ್ (B) ಪೇಜರ್
 (C) ಸೆಲ್ಯುಲಾರ್ ಫೋನ್ (D) ಇಂಟರ್‌ನೆಟ್
 Question Id : 28
29. ಕೃತಕ ರೇಷ್ಮೆ ಯನ್ನು ಹೀಗೂ ಕರೆಯಬಹುದು -
 (A) ರೇಯಾನ್ (B) ಡಾಕ್ರಾನ್
 (C) ಫೈಬರ್ ಗ್ಲಾಸ್ (D) ನೈಲಾನ್
 Question Id : 29
30. ಕೆಲಗಿನ ಯಾವುದು ಮೂರು ಜೊತೆ ಪಾದಗಳನ್ನು ಹೊಂದಿದೆ ?
 (A) ಜೇಡ (B) ಚೇಳು
 (C) ಬಗ್ (D) ಮೈಟ್
 Question Id : 30
31. ಹರಪ್ಪ ನಾಗರಿಕತೆಯ ನೆಲೆಯಾದ ದೊಲವಿರ ವು ಈ ಕೆಲಗಿನ ಯಾವ ರಾಜ್ಯದಲ್ಲಿದೆ
 (A) ಗುಜರಾತ್ (B) ಹರ್ಯಾಣ
 (C) ಮಧ್ಯಪ್ರದೇಶ (D) ರಾಜಸ್ಥಾನ
 Question Id : 31
32. ಬ್ರಾಹ್ಮಿ ಲಿಪಿಯನ್ನು ಓದಿದವರು
 (A) ಚಾರ್ಲ್ಸ್ ವಿಲ್ಕಿನ್ಸ್ (B) ಜೇಮ್ಸ್ ಪ್ರಿನ್ಸೆಪ್
 (C) ಆರ್.ಜಿ. ಭಂಡಾರ್ಕರ್ (D) ಡಿ.ಸಿ. ಸಿರ್ಕರ್
 Question Id : 32
33. ಹದಿನಾರು ಮಹಾಜನಪದಗಳ ಪಟ್ಟಿಯನ್ನು ತಿಳಿಸುವ ಪಠ್ಯ
 (A) ಮನು ಸ್ಮೃತಿ (B) ನಾರದ ಸ್ಮೃತಿ
 (C) ಸುತ್ತ ಪೀಠಕದ ಅಂಗುತ್ತಾರ ನಿಕಾಯ
 (D) ಇವುಗಳಲ್ಲಿ ಯಾವುದೂ ಅಲ್ಲ
 Question Id : 33

34. The credit for discovering the 'Arthashastra' goes to
 (A) R. Narasimhachar (B) Alur Venkata Rao
 (C) B.M. Srikantaiah (D) R. Shama Shastry

Question Id : 34

35. Vedanta was called as
 (A) Tantra (B) Uttaramimamsa
 (C) Yoga (D) Vaisheshika

Question Id : 35

36. Kailash temple at Ellora was built by
 (A) Dantidurga (B) Samudragupta
 (C) Harshavardhan (D) Krishna I

Question Id : 36

37. The first battle at Tarain fought between Prithviraj Chauhan and Mohammad Ghori, was fought in the year
 (A) 1181 (B) 1182
 (C) 1191 (D) 1192

Question Id : 37

38. Who among the following is the founder of the Bahmani kingdom ?
 (A) Zainul Abidin (B) Ghiyasuddin
 (C) Sultan Mahmud Begara
 (D) Zafar Khan

Question Id : 38

39. Krishnadeva Raya belonged to
 (A) Sangama dynasty (B) Salva dynasty
 (C) Tuluva dynasty (D) Aravidu dynasty

Question Id : 39

40. The work 'Maasir-i-alamgiri' was written by
 (A) Muhammad Saqi Mustaid Khan
 (B) Munishi Mirza Muhammad Kazim
 (C) Miraza Nathan (D) None of these

Question Id : 40

34. ಅರ್ಥಶಾಸ್ತ್ರವನ್ನು ಬೆಳಕಿಗೆ ತಂದ ಕೀರ್ತಿ ಸಲ್ಲಿಸಲಾಗಿರುವುದು
 (A) ಆರ್. ನರಸಿಂಹಾಚಾರ್ ಅವರಿಗೆ
 (B) ಆಲೂರು ವೆಂಕಟರಾವ್ ಅವರಿಗೆ
 (C) ಬಿ.ಎಂ. ಶ್ರೀಕಂಠಯ್ಯ ಅವರಿಗೆ
 (D) ಆರ್. ಶಾಮಾಶಾಸ್ತ್ರಿಗಳಿಗೆ

Question Id : 34

35. ವೇದಾಂತವನ್ನು ಕರೆಯುತ್ತಿದ್ದ ಮತ್ತೊಂದು ಹೆಸರು
 (A) ತಂತ್ರ (B) ಉತ್ತರಮೀಮಾಂಸ
 (C) ಯೋಗ (D) ವೈಶೇಷಿಕ

Question Id : 35

36. ಎಲ್ಲೋರಾದಲ್ಲಿರುವ ಕೈಲಾಸ ದೇವಾಲಯವನ್ನು ಕಟ್ಟಿಸಿದವರು
 (A) ದಂತಿದುರ್ಗ (B) ಸಮುದ್ರ ಗುಪ್ತ
 (C) ಹರ್ಷವರ್ಧನ (D) ಒಂದನೇ ಕೃಷ್ಣ

Question Id : 36

37. ತರೈನ್ ಎಂಬಲ್ಲಿ ಪ್ರದೀರಾಜ್ ಚೌಹಾಣ್ ಮತ್ತು ಮಹಮದ್ ಘೋರಿ ಅವರ ನಡುವೆ ನಡೆದ ಪ್ರಥಮ ಯುದ್ಧದ ವರ್ಷ
 (A) 1181 (B) 1182
 (C) 1191 (D) 1192

Question Id : 37

38. ಈ ಕೆಳಗಿನವರುಗಳಲ್ಲಿ ಯಾರು ಬಹಮನಿ ರಾಜ್ಯದ ಸಂಸ್ಥಾಪಕರು ?
 (A) ಜೈನಲ್ ಅಬಿದಿನ್ (B) ಫಿಯಾಸುದ್ದೀನ್
 (C) ಸುಲ್ತಾನ್ ಮಹಮದ್ ಬೇಗರ
 (D) ಜಫರ್ ಖಾನ್

Question Id : 38

39. ಕೃಷ್ಣದೇವರಾಯನು _____ ಮನೆತನಕ್ಕೆ ಸೇರಿದ್ದನು.
 (A) ಸಂಗಮ (B) ಸಾಳ್ವ
 (C) ತುಳುವ (D) ಅರವೀಡು

Question Id : 39

40. ಮಾಸಿರ್-ಐ-ಅಲಂಗಿರಿ ಕೃತಿಯನ್ನು ಬರೆದವನು
 (A) ಮಹಮದ್ ಸಾಕಿ ಮಸ್ತೈದ್ ಖಾನ್
 (B) ಮುನಿಷಿ ಮಿರ್ಜಾ ಮಹಮದ್ ಕಾಜಿಮ್
 (C) ಮಿರ್ಜಾ ನಾಥನ್
 (D) ಇವುಗಳಲ್ಲಿ ಯಾವುದೂ ಅಲ್ಲ

Question Id : 40

41. Henry Vivian Derozio was associated with the
 (A) Young Bengal Movement
 (B) Theosophical Movement
 (C) Indian National Congress
 (D) Revolutionary Nationalists

Question Id : 41

42. The first woman legislator of the Madras Legislative Council was
 (A) Annie Besant (B) Sarala Devi
 (C) Dr. Muthulakshmi Reddi
 (D) Mridula Sarabhai

Question Id : 42

43. 'Mukti Sadan' was started by
 (A) Savithribai Phule (B) Pandita Ramabai
 (C) Dr. Muthulakshmi Reddi
 (D) Tarabhai Shinde

Question Id : 43

44. Who used the term 'Untouchable' for the Scheduled Castes for the first time ?
 (A) W.C. Crooke (B) Dr. B.R. Ambedkar
 (C) M.C. Raja (D) H.H. Risley

Question Id : 44

45. Who made the observation in the following terms on Gandhi, that "Generation to come, it may be, will scarcely believe that such a one as this ever in flesh and blood walked upon this earth" ?
 (A) C.F. Andrews
 (B) Rabindranath Tagore
 (C) Jawaharlal Nehru (D) Einstein

Question Id : 45

46. The point within earth where earthquake originate is
 (A) comma (B) origin
 (C) epicentre (D) focus

Question Id : 46

41. ಹೆನ್ರಿ ವಿವಿಯನ್ ಡಿರೊಜಿಯೊ ಅವರು ಈ ಕೆಳಗಿನ ಯಾವುದರ ಜೊತೆ ಇದ್ದರು
 (A) ಯುವ ಬಂಗಾಳ ಚಳವಳಿ (B) ಥಿಯೋಸಾಫಿಕಲ್ ಚಳವಳಿ
 (C) ಭಾರತೀಯ ರಾಷ್ಟ್ರೀಯ ಕಾಂಗ್ರೆಸ್
 (D) ಕ್ರಾಂತಿಕಾರಿ ರಾಷ್ಟ್ರೀಯವಾದಿಗಳು

Question Id : 41

42. ಮದರಾಸು ವಿಧಾನ ಪರಿಷತ್ತಿನ ಮೊದಲ ಮಹಿಳಾ ಶಾಸಕಿಯಾದವರು
 (A) ಅನಿಬೆಸೆಂಟ್ (B) ಸರಳಾದೇವಿ
 (C) ಡಾ. ಮುತ್ತುಲಕ್ಷ್ಮಿ ರೆಡ್ಡಿ (D) ಮೃದುಲಾ ಸಾರಾಭಾಯಿ

Question Id : 42

43. ಮುಕ್ತಿ ಸದನದ ಸಂಸ್ಥಾಪಕರು
 (A) ಸಾವಿತ್ರಿಬಾಯಿ ಫುಲೆ (B) ಪಂಡಿತ ರಮಾಬಾಯಿ
 (C) ಡಾ. ಮುತ್ತುಲಕ್ಷ್ಮಿ ರೆಡ್ಡಿ (D) ತಾರಾಭಾಯಿ ಶಿಂದೆ

Question Id : 43

44. ಪರಿಶಿಷ್ಟ ಜಾತಿಗಳಿಗೆ ಸಂವಾದಿಯಾಗಿ 'ಅನ್‌ಟಚಬಲ್' ಎನ್ನುವ ಪದವನ್ನು ಪ್ರಪ್ರಥಮ ವಾಗಿ ಬಳಸಿದವರು
 (A) ಡಬ್ಲ್ಯೂ.ಸಿ. ಕ್ರೂಕ್ (B) ಡಾ. ಬಿ.ಆರ್. ಅಂಬೇಡ್ಕರ್
 (C) ಎಂ.ಸಿ. ರಾಜ (D) ಎಚ್.ಎಚ್. ರೈಸ್ಲೆ

Question Id : 44

45. ಗಾಂಧೀಜಿಯನ್ನು ಕುರಿತಂತೆ ಈ ಕೆಳಗಿನ ಮಾತುಗಳನ್ನು ಹೇಳಿದವರು, "ಒಬ್ಬ ವ್ಯಕ್ತಿ ಹೀಗೆ ರಕ್ತಮಾಂಸಗಳಿಂದ ಕೂಡಿದ್ದವರು ಈ ಭೂಮಿಯ ಮೇಲೆ ನಡೆದಾಡಿದ್ದರು ಎಂಬುದನ್ನು ಮುಂದಿನ ತಲೆಮಾರುಗಳು ಬಹುಷಃ ನಂಬಲು ಕಷ್ಟಪಡಬಹುದು" ಎಂದು
 (A) ಸಿ.ಎಫ್. ಆಂಡ್ರ್ಯೂಸ್ (B) ರವೀಂದ್ರನಾಥ ತಾಗೂರ್
 (C) ಜವಹರಲಾಲ್ ನೆಹರು (D) ಐನ್‌ಸ್ಟೈನ್

Question Id : 45

46. ಭೂಮಿ ಒಳಗೆ ಭೂಕಂಪ ಹುಟ್ಟುವ ಸ್ಥಳಕ್ಕೆ _____ ಎನ್ನುತ್ತಾರೆ.
 (A) ಕೊಮ್ಮಾ (B) ಓರಿಜೆನ್
 (C) ಎಪಿಕ್ ಸೆಂಟರ್ (D) ಫೋಕಸ್

Question Id : 46

47. Which planet of the Solar System spins on its axis at the fastest rate ?
 (A) Saturn (B) Jupiter
 (C) Earth (D) Mars

Question Id : 47

48. Which of the following has a potential for harnessing of tidal energy in India ?
 (A) Gulf of Cambay (B) Gulf of Mannar
 (C) Back-waters of Kerala
 (D) Chilka Lake

Question Id : 48

49. Which of the following food grain crops occupies the largest part of the cropped area in India ?
 (A) Wheat (B) Rice
 (C) Jowar (D) Maize

Question Id : 49

50. The private sector oil refinery set up by RIL is located at
 (A) Haldia (B) Chennai
 (C) Amaravathi (D) Jamnagar

Question Id : 50

51. Which one among the following industries is the maximum consumer of water in India ?
 (A) Engineering (B) Paper and Pulp
 (C) Thermal Power (D) Textiles

Question Id : 51

52. TRYSEM is a programme of
 (A) Rural Development
 (B) Industrial Development
 (C) Urban Development
 (D) Metro Development

Question Id : 52

53. The Polar Satellite Launch Vehicle, in its 40th Flight (PSLV-C38) successfully put into orbit how many satellites ?
 (A) 29 (B) 31
 (C) 38 (D) 41

Question Id : 53

47. ತನ್ನ ಅಕ್ಷದ ಮೇಲೆ ಅತಿ ಜೋರಾಗಿ ತಿರುಗುವ ಗ್ರಹ
 (A) ಶನಿ (B) ಗುರು
 (C) ಭೂಮಿ (D) ಮಂಗಳ

Question Id : 47

48. ಕೆಳಗಿನ ಯಾವುದರಲ್ಲಿ (Tidal Energy) ತುಂಬ ಅವಕಾಶವಿದೆ.
 (A) ಗಲ್ಫ್ ಆಫ್ ಕ್ಯಾಂಬೇ (B) ಗಲ್ಫ್ ಆಫ್ ಮನ್ನಾರ್
 (C) ಕೇರಳದ ಪಿನ್ನೀರನಲ್ಲಿ (ಬ್ಯಾಕ್ ವಾಟರ್ಸ್)
 (D) ಚಿಲ್ಕಾ ಸರೋವರ

Question Id : 48

49. ಭಾರತದಲ್ಲಿ ಕೆಳಗಿನ ಯಾವ ಆಹಾರ ಧಾನ್ಯವು ಅತಿ ಹೆಚ್ಚಿನ ಬೆಳೆ ಬೆಳೆಯುವ ಪ್ರದೇಶವನ್ನು ಆವರಿಸುತ್ತದೆ ?
 (A) ಗೋಧಿ (B) ಭತ್ತ
 (C) ಜೋಳ (D) ಮೆಕ್ಕೆಜೋಳ

Question Id : 49

50. RIL ನ ಖಾಸಗಿ ಒಡೆತನದ ಪ್ರಥಮ ತೈಲ ಸಂಸ್ಕರಿಸುವ ಘಟಕ ಇಲ್ಲಿ ಪ್ರಾರಂಭಿಸಲಾಯಿತು.
 (A) ಹಲ್ದಿಯಾ (B) ಚೆನ್ನೈ
 (C) ಅಮರಾವತಿ (D) ಜಾಮನಗರ್

Question Id : 50

51. ಭಾರತದಲ್ಲಿ ಕೆಳಗಿನ ಯಾವ ಉದ್ಯಮವು ಅತಿ ಹೆಚ್ಚು ನೀರನ್ನು ಉಪಯೋಗಿಸುತ್ತದೆ ?
 (A) ತಾಂತ್ರಿಕ (B) ಪೇಪರ್ ಮತ್ತು ಪಲ್ಪ್
 (C) ಥರ್ಮಲ್ ಪಾವರ್ (D) ಟೆಕ್ಸ್ಟೈಲ್ಸ್

Question Id : 51

52. TRYSEM ಪ್ರೋಗ್ರಾಂ ಕೆಳಗಿನದಕ್ಕೆ ಸಂಬಂಧಿಸಿದ್ದಾಗಿದೆ
 (A) ರೂರಲ್ ಡೆವಲಪ್‌ಮೆಂಟ್ (B) ಔದ್ಯಮಿಕ ಬೆಳವಣಿಗೆಗಾಗಿ
 (C) ಅರ್ಬನ್ ಬೆಳವಣಿಗೆಗಾಗಿ (D) ಮೆಟ್ರೋ ಅಭಿವೃದ್ಧಿಗಾಗಿ

Question Id : 52

53. PSLV - C38 ಗಗನ ನೌಕೆಯು ತನ್ನ 40 ನೇಯ ಯಾನದಲ್ಲಿ ಎಷ್ಟು ಉಪಗ್ರಹಗಳನ್ನು ಕಕ್ಷೆಯಲ್ಲಿ ಇರಿಸಿತು ?
 (A) 29 (B) 31
 (C) 38 (D) 41

Question Id : 53

54. Amazon river originates in which country ?
 (A) Brazil (B) Columbia
 (C) Argentina (D) Peru

Question Id : 54

55. _____ is the first indigenously built nuclear power plant in India.
 (A) Tarapore (B) Narora
 (C) Kalpakkam (D) Kakrapar

Question Id : 55

56. Which of the following rivers of India does not originate from Western ghats ?
 (A) Krishna (B) Koyna
 (C) Mahanadi (D) Godavari

Question Id : 56

57. The most ideal region for cultivation of cotton in India is
 (A) Himalayas (B) The Deccan Plateau
 (C) The Rann of Kutch
 (D) The Brahmaputra Valley

Question Id : 57

58. Which of the following raw materials is used abundantly for generation of power in India ?
 (A) Uranium (B) Natural gas
 (C) Mineral oil (D) Coal

Question Id : 58

59. When it is Noon (12.00) at Mumbai in India, the time at Greenwich, London will be (same day)
 (A) 17.30 Hrs. (B) Midnight GMT
 (C) 06.30 Hrs. (D) 21.30 Hrs.

Question Id : 59

60. Which country has the largest coastal-line ?
 (A) Canada (B) USA
 (C) India (D) Australia

Question Id : 60

61. Who won the All India Open Rapid World Chess Federation (FIDE) ?
 (A) Suresh Kumar (B) Kannan Devan
 (C) R.R. Laxman (D) A.K. Vivek

Question Id : 61

54. ಅಮೆಜಾನ್ ನದಿಯು ಯಾವ ದೇಶದಲ್ಲಿ ಹುಟ್ಟುತ್ತದೆ ?
 (A) ಬ್ರೆಜಿಲ್ (B) ಕೊಲಂಬಿಯಾ
 (C) ಅರ್ಜೆಂಟೀನಾ (D) ಪೆರು

Question Id : 54

55. ದೇಶೀಯ ತಂತ್ರಜ್ಞಾನದಿಂದ ನಿರ್ಮಾಣವಾದ ಪ್ರಥಮ ಅಣುಶಕ್ತಿಯ ವಿದ್ಯುತ್ ಘಟಕ
 (A) ತಾರಾಪುರ (B) ನರೋರಾ
 (C) ಕಲ್ಪಕ್ಕಮ್ (D) ಕಕ್ರಾಪಾರ

Question Id : 55

56. ಕೆಳಗಿನವುಗಳಲ್ಲಿ ಭಾರತದ ಯಾವ ನದಿಯು ಪಶ್ಚಿಮ ಘಟ್ಟದಲ್ಲಿ ಹುಟ್ಟುವುದಿಲ್ಲ ?
 (A) ಕೃಷ್ಣಾ (B) ಕೊಯ್ನು
 (C) ಮಹಾನದಿ (D) ಗೋದಾವರಿ

Question Id : 56

57. ಭಾರತದಲ್ಲಿ ಹತ್ತಿ ಬೆಳೆಯಲು ಅತಿ ಉಪಯುಕ್ತವಾದ ಸ್ಥಳ
 (A) ಹಿಮಾಲಯಾ (B) ಡೆಕ್ಕನ್ ಪ್ಲಾಟೊ
 (C) ರಣ್ ಆಫ್ ಕಚ್ಚ್ (D) ಬ್ರಹ್ಮಪುತ್ರ ಕಣಿವೆ

Question Id : 57

58. ಭಾರತದಲ್ಲಿ ವಿದ್ಯುತ್‌ನ್ನು ಉತ್ಪಾದಿಸಲು ಕೆಳಗಿನ ಯಾವ ಕಚ್ಚಾವಸ್ತುವನ್ನು ಅತಿ ಹೆಚ್ಚಾಗಿ ಬಳಸಲಾಗುತ್ತದೆ ?
 (A) ಯುರೇನಿಯಂ (B) ನೈಸರ್ಗಿಕ ಅನಿಲ
 (C) ಖನಿಜ ತೈಲ (D) ಕಲ್ಲಿದ್ದಲು

Question Id : 58

59. ಮುಂಬೈನಲ್ಲಿ ನಡುಮಧ್ಯಾಹ್ನ 12.00 ಗಂಟೆ ಆದಾಗ ಗ್ರೀನ್‌ವಿಚ್ಚ್, ಲಂಡನ್‌ನಲ್ಲಿ ವೇಳೆ ಎಷ್ಟಾಗಿರುತ್ತದೆ (ಅದೇ ದಿನ) ?
 (A) 17.30 ಗಂಟೆ (B) ನಡುರಾತ್ರಿ GMT
 (C) 06.30 ಗಂಟೆ (D) 21.30 ಗಂಟೆ

Question Id : 59

60. ಅತಿ ಹೆಚ್ಚು ಕರಾವಳಿ ತೀರವನ್ನು ಹೊಂದಿರುವ ದೇಶ
 (A) ಕೆನಡಾ (B) ಯು.ಎಸ್.ಎ.
 (C) ಭಾರತ (D) ಆಸ್ಟ್ರೇಲಿಯಾ

Question Id : 60

61. ಆಲ್ ಇಂಡಿಯಾ ಓಪನ್ ರಾಪಿಡ್ ವರ್ಲ್ಡ್ ಚೆಸ್ ಫೆಡರೇಷನ್ (FIDE) ಗೆದ್ದವರು ಯಾರು ?
 (A) ಸುರೇಶ್ ಕುಮಾರ್ (B) ಕನ್ನನ್ ದೇವನ್
 (C) ಆರ್.ಆರ್. ಲಕ್ಷ್ಮಣ್ (D) ಎ.ಕೆ. ವಿವೇಕ್

Question Id : 61

62. Who among the following is not a part of Badminton sport ?
 (A) Prakash Padukone (B) Ashwini Ponnappa
 (C) Anup Sridhar (D) Rohan Bopanna

Question Id : 62

63. Which of the following companies slogan is 'Connecting India' ?
 (A) Airtel (B) Idea
 (C) MTNL (D) BSNL

Question Id : 63

64. Who among the following is NOT the recipient of Bharat Ratna ?
 (A) Sir M. Visvesvaraya (B) Shakuntala Devi
 (C) C.N.R. Rao (D) Bhim Sen Joshi

Question Id : 64

65. Under the Ksheera Bhagya Scheme what quantity of milk is distributed ?
 (A) 100 ml (B) 150 ml
 (C) 175 ml (D) 200 ml

Question Id : 65

66. Which one among the following river flows towards the Arabian Sea ?
 (A) Mahanadi (B) Godavari
 (C) Krishna (D) Narmada

Question Id : 66

67. Karnataka Government Scheme 'Bidaai' is meant especially to
 (A) Hindu women for marriage
 (B) Minority women for marriage
 (C) Stop child marriage
 (D) Encourage remarriage of divorcee

Question Id : 67

68. What is the name of the Ox racing in Karnataka ?
 (A) Jallikattu (B) Kambala
 (C) Maramadi (D) Bailpola

Question Id : 68

62. ಈ ಕೆಳಗಿರುವವರಲ್ಲಿ ಯಾರು ಬ್ಯಾಡ್ಮಿಂಟನ್ ಕ್ರೀಡೆಯ ಭಾಗವಲ್ಲಾ ?
 (A) ಪ್ರಕಾಶ್ ಪಡುಕೋಣೆ (B) ಆಶ್ವಿನಿ ಪೊನ್ನಪ್ಪ
 (C) ಅನುಪ್ ಶ್ರೀಧರ್ (D) ರೋಹನ್ ಬೋಪಣ್ಣ

Question Id : 62

63. ಈ ಕೆಳಗಿನ ಯಾವ ಕಂಪನಿಯ ಘೋಷಣೆ ಕನೆಕ್ಟಿಂಗ್ ಇಂಡಿಯಾ ಆಗಿರುತ್ತದೆ ?
 (A) ಏರ್‌ಟೆಲ್ (B) ಐಡಿಯಾ
 (C) ಎಂ.ಟಿ.ಎನ್.ಎಲ್. (D) ಬಿ.ಎಸ್.ಎನ್.ಎಲ್.

Question Id : 63

64. ಕೆಳಗಿನವರುಗಳಲ್ಲಿ ಯಾರು ಭಾರತ ರತ್ನ ವನ್ನು ಸ್ವೀಕರಿಸಿರುವುದಿಲ್ಲಾ ?
 (A) ಸರ್.ಎಂ. ವಿಶ್ವೇಶ್ವರಯ್ಯ (B) ಶಕುಂತಲಾ ದೇವಿ
 (C) ಸಿ.ಎನ್.ಆರ್. ರಾವ್ (D) ಭೀಮ್ ಸೇನ್ ಜೋಶಿ

Question Id : 64

65. ಯಾವ ಪ್ರಮಾಣದ ಹಾಲನ್ನು ಕ್ಷೀರಾ ಭಾಗ್ಯ ಯೋಜನೆ ಅಡಿಯಲ್ಲಿ ವಿತರಿಸಲಾಗುವುದು ?
 (A) 100 ಮಿ.ಲಿ. (B) 150 ಮಿ.ಲಿ.
 (C) 175 ಮಿ.ಲಿ. (D) 200 ಮಿ.ಲಿ.

Question Id : 65

66. ಕೆಳಗಿರುವ ಯಾವ ನದಿಗಳಲ್ಲಿ ಒಂದು ಅರೇಬಿಯನ್ ಸಮುದ್ರದ ಕಡೆಗೆ ಹರಿಯುತ್ತದೆ ?
 (A) ಮಹಾನದಿ (B) ಗೋದಾವರಿ
 (C) ಕೃಷ್ಣಾ (D) ನರ್ಮದಾ

Question Id : 66

67. ಕರ್ನಾಟಕ ಸರ್ಕಾರದ ಬಿದಾಯಿ ಯೋಜನೆಯು ಯಾರಿಗೆ ವಿಶೇಷವಾಗಿ ಉದ್ದೇಶಿಸಲಾಗಿದೆ ?
 (A) ಹಿಂದೂ ಮಹಿಳೆಯರ ಮದುವೆಗಾಗಿ
 (B) ಅಲ್ಪಸಂಖ್ಯಾತ ಮಹಿಳೆಯರ ಮದುವೆಗಾಗಿ
 (C) ಬಾಲ್ಯ ವಿವಾಹವನ್ನು ನಿಲ್ಲಿಸಲು
 (D) ವಿಚ್ಛೇದನ ಪುನರ್ವಿವಾಹವನ್ನು ಪ್ರೋತ್ಸಾಹಿಸಲು

Question Id : 67

68. ಕರ್ನಾಟಕದಲ್ಲಿ ಎತ್ತು ಓಟದ ಹೆಸರೇನು ?
 (A) ಜಲ್ಲಿಕಟ್ಟು (B) ಕಂಬಾಲಾ
 (C) ಮಾರಮಡಿ (D) ಬೈಲಪೂಲ

Question Id : 68

69. Identify the incorrect motto of Sarva Siksha Abhiyan 2000-2001 among the following :
- (A) Education for all (B) Each one Teach one
(C) Employment for all
(D) Universalisation of Elementary Education

Question Id : 69

70. Match the following local names to agricultural products :
- Local Names
1. Ullagaddi
2. Byadgi
3. Nendran
4. Shenga
Agricultural Products
a. Groundnut
b. Banana
c. Chilli
d. Onion
- (A) 1-b, 2-c, 3-d, 4-a (B) 1-c, 2-b, 3-a, 4-d
(C) 1-d, 2-c, 3-b, 4-a (D) 1-d, 2-b, 3-c, 4-a

Question Id : 70

71. If $a + b$ implies $a - b$, $a - b$ implies $a \times b$, $a \times b$ implies $a \div b$, $a \div b$ implies $a + b$. Which of the following statement is true ?
- (A) $6 + 2 - 3 \times 1 \div 4 = 12$
(B) $10 + 4 - 3 \times 1 \div 2 = 5$
(C) $6 + 4 - 2 \times 2 \div 1 = 3$
(D) $10 - 4 + 3 \times 2 \div 1 = 5$

Question Id : 71

72. If $a + b$ implies $a - b$, $a - b$ implies $a \times b$, $a \times b$ implies $a \div b$, $a \div b$ implies $a + b$. Calculate $5 + 8 - 25 \times 5 \div 40$.
- (A) 5 (B) -5
(C) 0 (D) 10

Question Id : 72

73. Find the values of X and Y, if X431Y is divisible by 8 and 9.
- (A) 3, 7 (B) 2, 8
(C) 6, 2 (D) 8, 2

Question Id : 73

69. ಸರ್ವ ಶಿಕ್ಷಾ ಅಭಿಯಾನ 2000-2001 ರ ಕೆಳಗಿನವುಗಳಲ್ಲಿರುವ ತಪ್ಪಾದ ಮೋಟೋವನ್ನು ಗುರುತಿಸಿ.
- (A) ಎಲ್ಲರಿಗೂ ಶಿಕ್ಷಣ
(B) ಪ್ರತಿಯೊಬ್ಬರೂ ಮತ್ತೊಬ್ಬರಿಗೆ ಕಲಿಸಲಿ
(C) ಎಲ್ಲರಿಗೂ ಉದ್ಯೋಗ
(D) ಪ್ರಾಥಮಿಕ ಶಿಕ್ಷಣದ ಸಾರ್ವತ್ರಿಕೀಕರಣ

Question Id : 69

70. ಕೆಳಗಿರುವ ಕೃಷಿ ಉತ್ಪನ್ನಗಳಿಗೆ ಸ್ಥಳೀಯ ಹೆಸರನ್ನು ಹೊಂದಿಸಿ.
- ಸ್ಥಳೀಯ ಹೆಸರು
1. ಉಲ್ಲಾಗಡ್ಡಿ
2. ಬ್ಯಾಡಗಿ
3. ನೇಂದ್ರನ್
4. ಶೇಂಗಾ
ಕೃಷಿ ಉತ್ಪನ್ನಗಳು
a. ಕಡಲೆಕಾಯಿ
b. ಬಾಳೆ
c. ಮೆಣಸಿನಕಾಯಿ
d. ಈರುಳ್ಳಿ
- (A) 1-b, 2-c, 3-d, 4-a (B) 1-c, 2-b, 3-a, 4-d
(C) 1-d, 2-c, 3-b, 4-a (D) 1-d, 2-b, 3-c, 4-a

Question Id : 70

71. $a + b$ ಅಂದರೆ $a - b$, $a - b$ ಅಂದರೆ $a \times b$, $a \times b$ ಅಂದರೆ $a \div b$, $a \div b$ ಅಂದರೆ $a + b$ ಆದರೆ, ಕೆಳಗಿನ ಯಾವ ಹೇಳಿಕೆ ಸರಿಯಾಗಿದೆ ?
- (A) $6 + 2 - 3 \times 1 \div 4 = 12$
(B) $10 + 4 - 3 \times 1 \div 2 = 5$
(C) $6 + 4 - 2 \times 2 \div 1 = 3$
(D) $10 - 4 + 3 \times 2 \div 1 = 5$

Question Id : 71

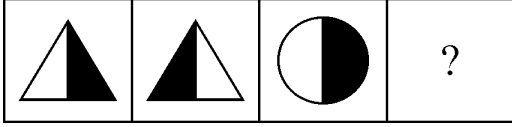
72. $a + b$ ಅಂದರೆ $a - b$, $a - b$ ಅಂದರೆ $a \times b$, $a \times b$ ಅಂದರೆ $a \div b$, $a \div b$ ಅಂದರೆ $a + b$ ಆದರೆ, $5 + 8 - 25 \times 5 \div 40$ ರ ಬೆಲೆಯನ್ನು ಕಂಡು ಹಿಡಿಯಿರಿ.
- (A) 5 (B) -5
(C) 0 (D) 10



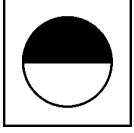
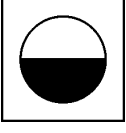
Question Id : 72

73. X431Y ಯು 8 ಮತ್ತು 9 ರಿಂದ ಭಾಗಿಸಲ್ಪಟ್ಟರೆ, X ಮತ್ತು Y ನ ಬೆಲೆಗಳೇನು ?
- (A) 3, 7 (B) 2, 8
(C) 6, 2 (D) 8, 2

Question Id : 73

74. Find the missing figure.



- (A)  (B) 
 (C)  (D) 

Question Id : 74

75. In a code language TAKE = 1790, PLOT = 5321, then code of PLATE will be

- (A) 52701 (B) 53071
 (C) 35710 (D) 53710

Question Id : 75

76. Find the missing item in the series.

4, 11, 25, 53, 109, ?

- (A) 221 (B) 234
 (C) 212 (D) 222

Question Id : 76

77. Pointing to a man in a photograph Aruna said "His mother's only daughter is my mother". How is Aruna related to that man ?

- (A) Nephew (B) Sister
 (C) Niece (D) Wife

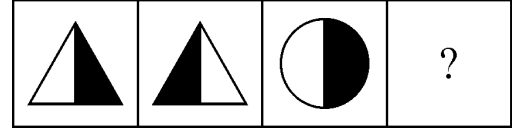
Question Id : 77



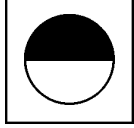
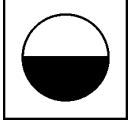
78. Six persons A, B, C, D, E and F are standing in a row. C and D are standing close to each other alongside E. B is standing beside A only. A is fourth from F. Who are standing on the extremes ?

- (A) A and F (B) B and D
 (C) B and F (D) None of these

Question Id : 78

74. ಈ ಕೆಳಗಿನ ಚಿತ್ರಶ್ರೇಣಿಯಲ್ಲಿ, ಕಾಣೆಯಾದ ಚಿತ್ರವನ್ನು ಗುರುತಿಸಿ ಅದರ ಸಂಕೇತವನ್ನು ಬರೆಯಿರಿ.



- (A)  (B) 
 (C)  (D) 

Question Id : 74

75. ಸಂಕೇತ ಭಾಷೆಯಲ್ಲಿ, TAKE = 1790, PLOT = 5321 ಆದರೆ PLATE ನ ಸಂಕೇತವು

- (A) 52701 (B) 53071
 (C) 35710 (D) 53710

Question Id : 75

76. ಈ ಕೆಳಗಿನ ಸಂಖ್ಯಾ ಶ್ರೇಣಿಯಲ್ಲಿ ಕಾಣೆಯಾದ ಸಂಖ್ಯೆಯನ್ನು ಗುರುತಿಸಿ.

4, 11, 25, 53, 109, ?

- (A) 221 (B) 234
 (C) 212 (D) 222

Question Id : 76

77. ಭಾವಚಿತ್ರದಲ್ಲಿನ ವ್ಯಕ್ತಿಯನ್ನು ತೋರಿಸುತ್ತಾ ಅರುಣ, "ಆತನ ತಾಯಿಯ ಒಬ್ಬಳೇ ಮಗಳು ನನ್ನ ತಾಯಿ" ಎಂದು ಹೇಳಿದನು. ಹಾಗಾದರೆ ಅರುಣ ಮತ್ತು ಆ ವ್ಯಕ್ತಿಗಿರುವ ಸಂಬಂಧವೇನು ?

- (A) ನೆಫ್ಯೂವ್ (B) ಸಹೋದರಿ
 (C) ನೀಸ್ (D) ಪತ್ನಿ

Question Id : 77

78. A, B, C, D, E ಮತ್ತು F ಎಂಬ 6 ಜನರು ಒಂದು ಸಾಲಿನಲ್ಲಿ ನಿಂತಿರುತ್ತಾರೆ. C ಮತ್ತು D ಯು E ನ ಪಕ್ಕದಲ್ಲಿ ಪರಸ್ಪರ ಹತ್ತಿರದಲ್ಲಿ ನಿಂತಿರುತ್ತಾರೆ. B ಯು A ನ ಪಕ್ಕದಲ್ಲಿ ನಿಂತಿದ್ದ ಏಕ ಮಾತ್ರ ವ್ಯಕ್ತಿ. A ಯು F ನಿಂದ 4 ನೆಯವನು. ಹಾಗಾದರೆ, ಆ ಸಾಲಿನ ಎರಡು ತುದಿಯಲ್ಲಿ ಯಾರು ನಿಂತಿರುತ್ತಾರೆ ?

- (A) A and F (B) B and D
 (C) B and F (D) ಇವುಗಳಲ್ಲಿ ಯಾವುದೂ ಅಲ್ಲ

Question Id : 78

79. If A is B's sister. C is B's mother. D is C's father. E is D's mother. Then, how is A related to D ?
 (A) Grandfather (B) Grandmother
 (C) Daughter (D) Grand-daughter

Question Id : 79

80. Find the missing terms.
 a_abb_aa_ba_a_b
 (A) a b a b a (B) a a b b a
 (C) a a b a b (D) a a a b b

Question Id : 80

81. A person travels 12 kms due North, then 15 kms due East, after that 15 kms due West and then 18 kms due South. How far is he from the starting point ?
 (A) 6 kms (B) 12 kms
 (C) 33 kms (D) 60 kms

Question Id : 81

82. If first day of the year (not a leap year) was Monday, then what was the last day of the year ?
 (A) Friday (B) Saturday
 (C) Monday (D) Sunday

Question Id : 82

83. Find the missing term in the letter series.
 VTRP, NLJH, FDBZ, XVTR, _____ ?
 (A) JLPN (B) LJPN
 (C) NPLJ (D) PNLJ

Question Id : 83

84. Find the missing number.

8	10	9
?	15	28
7	12	13

- (A) 9 (B) 10
 (C) 11 (D) 12

Question Id : 84

79. A ಯು B ನ ಸಹೋದರಿ. C ಯು B ನ ತಾಯಿ. D ಯು C ನ ತಂದೆ. E ಯು D ನ ತಾಯಿ ಆದರೆ A ಯು D ಗೆ ಯಾವ ರೀತಿ ಸಂಬಂಧವಿದೆ ?
 (A) ಅಜ್ಜ (B) ಅಜ್ಜಿ
 (C) ಮಗಳು (D) ಮೊಮ್ಮಗಳು

Question Id : 79

80. ಈ ಪದ ಶ್ರೇಣಿಯಲ್ಲಿ ಕಾಣೆಯಾದ ಪದವು
 a_abb_aa_ba_a_b
 (A) a b a b a (B) a a b b a
 (C) a a b a b (D) a a a b b

Question Id : 80

81. ವ್ಯಕ್ತಿಯೊಬ್ಬನು 12 ಕಿ.ಮೀ. ಉತ್ತರ ದಿಕ್ಕಿಗೂ, ನಂತರ 15 ಕಿ.ಮೀ. ಪೂರ್ವ ದಿಕ್ಕಿಗೂ, ತದನಂತರ 15 ಕಿ.ಮೀ. ಪಶ್ಚಿಮ ದಿಕ್ಕಿಗೂ ಮತ್ತು 18 ಕಿ.ಮೀ. ದಕ್ಷಿಣ ದಿಕ್ಕಿಗೂ ಪ್ರಯಾಣಿಸಿದನು. ಹಾಗಾದರೆ, ಆ ವ್ಯಕ್ತಿಯು ಆರಂಭಿಕ ಸ್ಥಳದಿಂದ ಎಷ್ಟು ದೂರದಲ್ಲಿದ್ದಾನೆ ?
 (A) 6 ಕಿ.ಮೀ.ಗಳು (B) 12 ಕಿ.ಮೀ.ಗಳು
 (C) 33 ಕಿ.ಮೀ.ಗಳು (D) 60 ಕಿ.ಮೀ.ಗಳು

Question Id : 81

82. ಅಧಿಕ ವರ್ಷವಲ್ಲದ ವರ್ಷವೊಂದರ ಪ್ರಾರಂಭ ದಿನವು ಸೋಮವಾರವಾಗಿದ್ದರೆ, ಆ ವರ್ಷದ ಕೊನೆಯ ದಿನ ಯಾವುದು ?
 (A) ಶುಕ್ರವಾರ (B) ಶನಿವಾರ
 (C) ಸೋಮವಾರ (D) ಭಾನುವಾರ

Question Id : 82

83. ಈ ಅಕ್ಷರ ಶ್ರೇಣಿಯಲ್ಲಿ ಕಾಣೆಯಾದ ಪದವು
 VTRP, NLJH, FDBZ, XVTR, _____ ?
 (A) JLPN (B) LJPN
 (C) NPLJ (D) PNLJ

Question Id : 83

84. ಈ ಕೆಳಗಿನ ಕೋಷ್ಟಕದಲ್ಲಿ, ಕಾಣೆಯಾದ ಸಂಖ್ಯೆಯು

8	10	9
?	15	28
7	12	13

- (A) 9 (B) 10
 (C) 11 (D) 12

Question Id : 84

85. Find the missing term in the letter series.
ABYZ, ADWZ, ?, AHSZ
(A) AFUZ (B) AUFZ
(C) ZFUA (D) ZUFA

Question Id : 85

85. ಈ ಅಕ್ಷರ ಶ್ರೇಣಿಯಲ್ಲಿ ಕಾಣೆಯಾದ ಪದವು
ABYZ, ADWZ, ?, AHSZ
(A) AFUZ (B) AUFZ
(C) ZFUA (D) ZUFA

Question Id : 85

MASTER PAPER

86. Choose the word that is nearest in meaning to the word in capitals : ALLEGIANCE.
(A) helplessness (B) hostility
(C) loyalty (D) delay

Question Id : 86

87. Choose the word that is most nearly opposite in meaning to the word in capitals : BANAL.
(A) boring (B) exciting
(C) illegal (D) monetary

Question Id : 87

88. Choose the pair that completes the meaning of the sentence most appropriately :
The Board meeting had a _____ sailing as there was no _____ item on the agenda.
(A) fast, important (B) lofty, legal
(C) regular, major
(D) smooth, controversial

Question Id : 88

89. Select the pair that best expresses a relationship similar to that expressed in the original pair :
CARPENTER - WOOD
(A) Blacksmith - Iron (B) Painter - Brush
(C) Gardener - Flower (D) Teacher - Textbook

Question Id : 89

90. She said to John, "I'll be late". The Reported Speech of this sentence is :
(A) She said John that she would be late.
(B) She told John that she would be late.
(C) She told John that he would be late.
(D) She said to John that she was late.

Question Id : 90

91. Ramu feeds the cow every morning. The Passive Voice form for this sentence is :
(A) Every morning Ramu feeds the cow.
(B) The cow feeds Ramu every morning.
(C) The cow is fed every morning by Ramu.
(D) Ramu is fed the cow every morning.

Question Id : 91

92. A knowledge of elementary mathematics _____ necessary for everyone.
(A) are (B) has
(C) have (D) is

Question Id : 92

93. Sunil _____ after the bus for sometime.
(A) ran (B) run
(C) running (D) runned

Question Id : 93

94. Choose the correct prefix to the word in the bracket to form its opposite.
Aditi, though extremely good at chess was _____ (aware) of the new rules and lost the match.
(A) in (B) un
(C) ir (D) il

Question Id : 94

95. Bright colours, simple messages and a suitable location make hoarding an _____ means of advertising.
(A) affected (B) affective
(C) effective (D) effecting

Question Id : 95

96. A magazine that is circulated once in two weeks.
(A) daily (B) weekly
(C) biennial (D) fortnightly

Question Id : 96

97. I _____ you on this issue.
(A) agree with (B) agree to
(C) agree on (D) agree about

Question Id : 97

98. Choose the correct meaning of the given Idiom or Phrase :
"Be on the brink of "
(A) to climb on a top of a cliff
(B) about to do something very soon
(C) to be in deep trouble
(D) to set out for an adventure

Question Id : 98

99. Aishwarya looked so pretty in the movie that I couldn't keep my _____ off her.

(A) chin

(B) ears

(C) eyes

(D) hands

Question Id : 99

100. My father disapproved of _____ joining in the movies.

(A) me

(B) I

(C) mine

(D) my

Question Id : 100

MASTER PAPER

MASTER PAPER

MASTER PAPER

ಸ್ಪರ್ಧಾತ್ಮಕ ಪರೀಕ್ಷೆ - 2017

ದಿನಾಂಕ ಮತ್ತು ಸಮಯ	ಹುದ್ದೆ	ವಿಷಯ
30-07-2017 ಮ. 2.30 ರಿಂದ 4.30 ರ ವರೆಗೆ	ಕೃಷಿ ಅಧಿಕಾರಿ	ಸಾಮಾನ್ಯ ಜ್ಞಾನ

ಗರಿಷ್ಠ ಅಂಕಗಳು	ಒಟ್ಟು ಅವಧಿ	ಉತ್ತರಿಸಲು ಇರುವ ಗರಿಷ್ಠ ಅವಧಿ
100	120 ನಿಮಿಷಗಳು	90 ನಿಮಿಷಗಳು

ನಿಮ್ಮ ನೋಂದಣಿ ಸಂಖ್ಯೆಯನ್ನು ಬರೆಯಿರಿ	ಪ್ರಶ್ನೆಪತ್ರಿಕೆಯ ವಿವರಗಳು ವರ್ಷನ್ ಕೋಡ್ ಮತ್ತು ಕ್ರಮಸಂಖ್ಯೆ

ಮಾಡಿ :

1. ಅಭ್ಯರ್ಥಿಗಳು ನೋಂದಣಿ ಸಂಖ್ಯೆಯನ್ನು ಓ.ಎಂ.ಆರ್. ಉತ್ತರಪತ್ರಿಕೆಯಲ್ಲಿ ಬರೆದು ಅದಕ್ಕೆ ಸಂಬಂಧಿಸಿದ ವೃತ್ತಗಳನ್ನು ಸಂಪೂರ್ಣವಾಗಿ ತುಂಬಿದ್ದೀರೆಂದು ಖಾತ್ರಿಪಡಿಸಿಕೊಳ್ಳಿ.
2. ಕೊಠಡಿ ಮೇಲ್ವಿಚಾರಕರಿಂದ ಈ ಪ್ರಶ್ನೆಪತ್ರಿಕೆಯನ್ನು ನಿಮಗೆ 2ನೇ ಬೆಲ್ ಆದ ನಂತರ, ಅಂದರೆ ಮ. 2.50 ಆದ ನಂತರ ಕೊಡಲಾಗುವುದು.
3. ಪ್ರಶ್ನೆಪತ್ರಿಕೆಯ ವರ್ಷನ್ ಕೋಡ್‌ನ್ನು / ಕ್ರಮಸಂಖ್ಯೆಯನ್ನು ಓ.ಎಂ.ಆರ್. ಉತ್ತರಪತ್ರಿಕೆಯಲ್ಲಿ ಬರೆದು ಅದಕ್ಕೆ ಸಂಬಂಧಿಸಿದ ವೃತ್ತಗಳನ್ನು ಸಂಪೂರ್ಣವಾಗಿ ತುಂಬಬೇಕು.
4. ಓ.ಎಂ.ಆರ್. ಉತ್ತರಪತ್ರಿಕೆಯ ಕೆಳಭಾಗದ ನಿಗದಿತ ಜಾಗದಲ್ಲಿ ಪೂರ್ಣ ಸಹಿ ಮಾಡಬೇಕು.

ಮಾಡಬೇಡಿ :

1. ಓ.ಎಂ.ಆರ್. ಉತ್ತರಪತ್ರಿಕೆಯಲ್ಲಿ ಮುದ್ರಿತವಾಗಿರುವ ಟೈಮಿಂಗ್ ಮಾರ್ಕನ್ನು ತಿದ್ದಬಾರದು / ಹಾಳುಮಾಡಬಾರದು / ಅಳಿಸಬಾರದು.
2. ಮೂರನೇ ಬೆಲ್ ಮ. 3.00 ಕ್ಕೆ ಆಗುತ್ತದೆ. ಅಲ್ಲಿಯವರೆಗೂ,
 - ಪ್ರಶ್ನೆಪತ್ರಿಕೆಯ ಬಲಭಾಗದಲ್ಲಿರುವ ಸೀಲ್ ಅನ್ನು ತೆಗೆಯಬಾರದು.
 - ಪ್ರಶ್ನೆಪತ್ರಿಕೆಯ ಒಳಗಡೆ ಇರುವ ಪ್ರಶ್ನೆಗಳನ್ನು ನೋಡಲು ಪ್ರಯತ್ನಿಸಬಾರದು.
 - ಓ.ಎಂ.ಆರ್. ಉತ್ತರಪತ್ರಿಕೆಯಲ್ಲಿ ಉತ್ತರಿಸಲು ಪ್ರಾರಂಭಿಸಬಾರದು.

ಅಭ್ಯರ್ಥಿಗಳಿಗೆ ಮುಖ್ಯ ಸೂಚನೆಗಳು

1. ಪ್ರಶ್ನೆಪತ್ರಿಕೆಯಲ್ಲಿ ಒಟ್ಟು 100 ಪ್ರಶ್ನೆಗಳಿದ್ದು, ಪ್ರತಿ ಪ್ರಶ್ನೆಗೂ 4 ಬಹು ಆಯ್ಕೆ ಉತ್ತರಗಳು ಇರುತ್ತವೆ.
2. ಮೂರನೇ ಬೆಲ್ ಅಂದರೆ ಮ. 3.00 ರ ನಂತರ ಸೀಲ್/ಪಾಲಿಥಿನ್ ಬ್ಯಾಗ್ ತೆಗೆದು ಈ ಪ್ರಶ್ನೆಪತ್ರಿಕೆ ಪುಸ್ತಿಕೆಯಲ್ಲಿ ಯಾವುದೇ ಪುಟಗಳು ಮುದ್ರಿತವಾಗಿಲ್ಲದೇ ಇರುವುದು ಕಂಡು ಬಂದಲ್ಲಿ ಅಥವಾ ಹರಿದು ಹೋಗಿದ್ದಲ್ಲಿ ಅಥವಾ ಯಾವುದೇ ಐಟಂಗಳು ಬಿಟ್ಟುಹೋಗಿದೆಯೇ ಎಂಬುದನ್ನು ಖಚಿತಪಡಿಸಿಕೊಂಡು, ಈ ರೀತಿ ಆಗಿದ್ದರೆ ಕೂಡಲೇ ಕೊಠಡಿ ಮೇಲ್ವಿಚಾರಕರಿಂದ ಪ್ರಶ್ನೆಪತ್ರಿಕೆಯನ್ನು ಬದಲಾಯಿಸಿಕೊಳ್ಳುವುದು. ನಂತರ ಓ.ಎಂ.ಆರ್. ಉತ್ತರಪತ್ರಿಕೆಯಲ್ಲಿ ಉತ್ತರಿಸಲು ಪ್ರಾರಂಭಿಸುವುದು.
3. ಮುಂದಿನ 90 ನಿಮಿಷಗಳಲ್ಲಿ :
 - ಪ್ರತಿ ಪ್ರಶ್ನೆಯನ್ನು ಎಚ್ಚರಿಕೆಯಿಂದ ಓದಿ.
 - ಪ್ರತಿ ಪ್ರಶ್ನೆಯ ಕೆಳಗೆ ಕೊಟ್ಟಿರುವ ನಾಲ್ಕು ಬಹು ಆಯ್ಕೆಯ ಉತ್ತರಗಳಲ್ಲಿ ಸರಿಯಾದ ಉತ್ತರವನ್ನು ಆಯ್ಕೆ ಮಾಡಿ. ಪ್ರತಿಪ್ರಶ್ನೆಗೆ ಒಂದಕ್ಕಿಂತ ಹೆಚ್ಚು ಉತ್ತರಗಳು ನಿಮ್ಮ ಆರಿವಿಗೆ ಬಂದರೂ ಸಹ ಪ್ರತಿ ಪ್ರಶ್ನೆಗೆ ಯಾವುದೇ ಒಂದು ಸರಿಯಾದ ಉತ್ತರವನ್ನು ಆಯ್ಕೆ ಮಾಡುವುದು.
 - ಪ್ರಶ್ನೆಪತ್ರಿಕೆಯಲ್ಲಿನ ಪ್ರಶ್ನೆಗೆ ಅನುಗುಣವಾಗಿರುವ ಸರಿ ಉತ್ತರವನ್ನು ಓ.ಎಂ.ಆರ್. ಉತ್ತರಪತ್ರಿಕೆಯಲ್ಲಿ ಅದೇ ಕ್ರಮ ಸಂಖ್ಯೆಯ ಮುಂದೆ ನೀಡಿರುವ ಸಂಬಂಧಿಸಿದ ವೃತ್ತವನ್ನು ನೀಡಿ ಅಥವಾ ಕಪ್ಪು ಶಾಯಿಯ ಬಾಲ್ ಪಾಯಿಂಟ್ ಪೆನ್ ನಿಂದ ಸಂಪೂರ್ಣ ತುಂಬುವುದು.

ಓ.ಎಂ.ಆರ್. ಉತ್ತರಪತ್ರಿಕೆಯಲ್ಲಿರುವ ವೃತ್ತಗಳನ್ನು ತುಂಬುವ ಸರಿಯಾದ ವಿಧಾನ : (A) (B) (C) (D)

4. ಈ ಓ.ಎಂ.ಆರ್. ಉತ್ತರಪತ್ರಿಕೆಯನ್ನು ಸ್ಟ್ಯಾನ್ ಮಾಡುವ ಸ್ಟ್ಯಾನರ್ ಬಹಳ ಸೂಕ್ಷ್ಮವಾಗಿದ್ದು ಸಣ್ಣ ಗುರುತನ್ನು ಸಹ ದಾಖಲಿಸುತ್ತದೆ. ಆದ್ದರಿಂದ ಓ.ಎಂ.ಆರ್. ಉತ್ತರಪತ್ರಿಕೆಯಲ್ಲಿ ಉತ್ತರಿಸುವಾಗ ಎಚ್ಚರಿಕೆ ವಹಿಸಿ.
5. ಪ್ರಶ್ನೆಪತ್ರಿಕೆಯಲ್ಲಿ ಕೊಟ್ಟಿರುವ ಖಾಲಿ ಜಾಗವನ್ನು ರಫ್ ಕೆಲಸಕ್ಕೆ ಉಪಯೋಗಿಸಿ. ಓ.ಎಂ.ಆರ್. ಉತ್ತರಪತ್ರಿಕೆಯನ್ನು ಇದಕ್ಕೆ ಉಪಯೋಗಿಸಬೇಡಿ.
6. ಕೊನೆಯ ಬೆಲ್ ಅಂದರೆ ಸಂ. 4.30 ಆದ ನಂತರ ಉತ್ತರಿಸುವುದನ್ನು ನಿಲ್ಲಿಸಿ. ನಿಮ್ಮ ಎಡಗೈ ಹೆಬ್ಬರಳ ಗುರುತನ್ನು ನಿಗದಿತ ಜಾಗದಲ್ಲಿ ಹಾಕಿ.
7. ಓ.ಎಂ.ಆರ್. ಉತ್ತರಪತ್ರಿಕೆಯನ್ನು ಕೊಠಡಿ ಮೇಲ್ವಿಚಾರಕರಿಗೆ ಯಥಾಸ್ಥಿತಿಯಲ್ಲಿ ನೀಡಿರಿ.
8. ಕೊಠಡಿ ಮೇಲ್ವಿಚಾರಕರು ಮೇಲ್ಕಾಗದ ಹಾಳೆಯನ್ನು ಪ್ರತ್ಯೇಕಿಸಿ (KEA copy) ತನ್ನ ವಶದಲ್ಲಿ ಇಟ್ಟುಕೊಂಡು ತಳಬದಿಯ ಯಥಾಪ್ರತಿಯನ್ನು (ಅಭ್ಯರ್ಥಿಯ ಪ್ರತಿ) ಅಭ್ಯರ್ಥಿಗಳಿಗೆ ಸ್ವಯಂ ಮೌಲ್ಯಮಾಪನಕ್ಕಾಗಿ ಮನೆಗೆ ಕೊಂಡೊಯ್ಯಲು ಕೊಡುತ್ತಾರೆ.
9. ಉತ್ತರಪತ್ರಿಕೆಯ ನಕಲನ್ನು ಒಂದು ವರ್ಷ ಕಾಲ ಸುರಕ್ಷಿತವಾಗಿ ಇಡಿ.
10. ಕನ್ನಡ ಆವೃತ್ತಿಯ ಪ್ರಶ್ನೆಗಳಲ್ಲಿ ಉತ್ತರಿಸುವ ಅಭ್ಯರ್ಥಿಗಳಿಗೆ ಕನ್ನಡದಲ್ಲಿ ಮುದ್ರಿತವಾಗಿರುವ ಪ್ರಶ್ನೆಗಳ ಬಗ್ಗೆ ಏನಾದರೂ ಸಂದೇಹವಿದ್ದಲ್ಲಿ ಇಂಗ್ಲೀಷ್ ಆವೃತ್ತಿಯ ಪ್ರಶ್ನೆಪತ್ರಿಕೆಯನ್ನು ನೋಡಬಹುದು. ಇಂಗ್ಲೀಷ್ ಆವೃತ್ತಿಯೇ ಅಂತಿಮವಾಗಿರುತ್ತದೆ.